
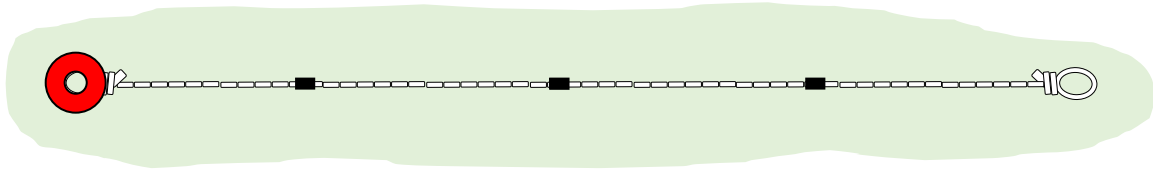


# Bråkdelar

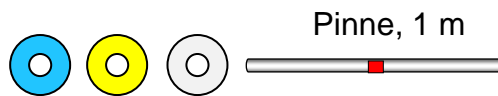
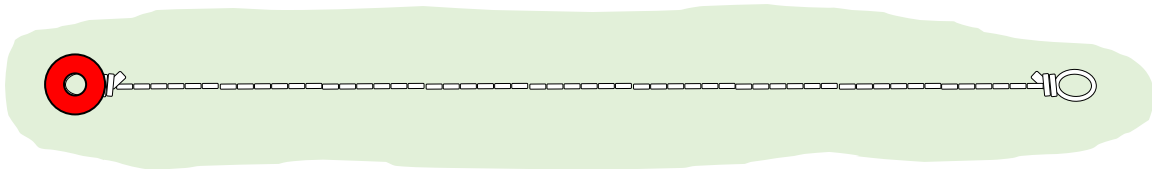
GRÖN



## Uppgifter:

Linan är fyra meter lång. Svart tejp markerar meter. Man mäter till konens mittpunkt.

1. **Kan ni** sätta en blå kon på linan, på  $\frac{1}{4}$  av linans avstånd mätt från den röda konens mitt?
2. **Kan ni** sätta en vit kon på linan, på  $\frac{3}{4}$  av linans avstånd mätt från den röda konens mitt?
3. **Kan ni** sätta en gul kon på mitten av linan?



#### Uppgifter:

4. **Kan ni** sätta en blå kon på linan, på  $1/4$  av linans avstånd mätt från den röda konens mitt? Man mäter till konens mittpunkt, inte till kanten.
5. **Kan ni** sätta en vit kon på linan, på  $3/4$  av linans avstånd mätt från den röda konens mitt?
6. **Kan ni** sätta en gul kon på mitten av linan?